



GUIA DE HISTORIA, GEOGRAFÍA Y CIENCIAS SOCIALES 2º BÁSICO

Nombre: _____ Curso: _____

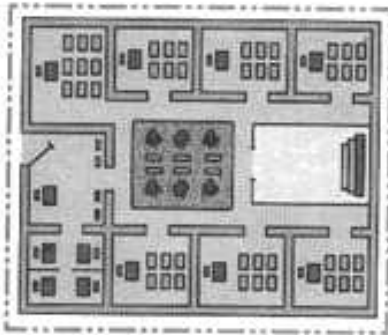
Objetivo de aprendizaje: (OA 6) Leer y dibujar planos simples de su entorno, utilizando puntos de referencia, categorías de posición relativa y simbología pictórica.

LOS PLANOS

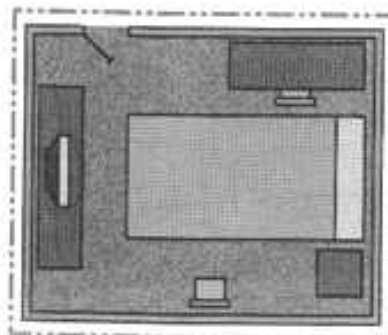


Cuando necesitamos ubicarnos en un espacio amplio, usamos los **planos**. Los planos muestran lugares como si los viéramos desde arriba. Además, para orientarnos utilizamos categorías de posición, tales como: arriba, abajo, adelante, detrás, derecha, izquierda, cerca o lejos, entre otros.

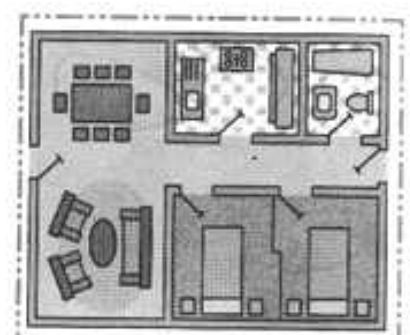
Actividad 1: Une cada plano con el lugar que representa:



Casa




Colegio



Habitación

Actividad 2: Completa el dibujo según las instrucciones.



Dibuja:

- Un pájaro arriba del árbol.
- Tres flores a la derecha del árbol.
- Una pelota delante del árbol.
- Un gato debajo de la banca.



Actividad 3:

Observa el plano.



Dibuja la mesa del profesor y la pizarra. Completa las oraciones con alguna de estas palabras:

izquierda - derecha - delante - atrás.

- a. Pablo se sienta _____ de Sonia.
- b. Ana se sienta a la _____ de Raúl.
- c. Carla se sienta a la _____ de José.
- d. Raúl se sienta _____ de José.
- e. Mario se sienta a _____ de Paula.
- f. Carla se sienta _____ de Luis y _____ de Paula.



GUIA DE HISTORIA, GEOGRAFÍA Y CIENCIAS SOCIALES 2º BÁSICO

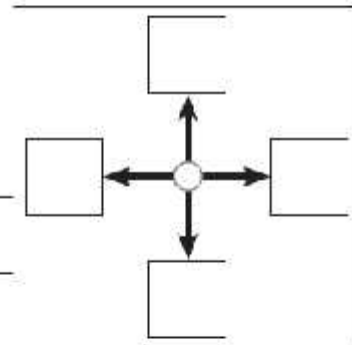
Nombre: _____ Curso: _____

Objetivo de aprendizaje: (OA 6) Leer y dibujar planos simples de su entorno, utilizando puntos de referencia, categorías de posición relativa y simbología pictórica.

Usamos la rosa de los vientos

1. Completa la rosa de los vientos con las letras que corresponden.
2. Pon tu lápiz en la estrella y avanza por la cuadrícula el número de cuadros que se indica:

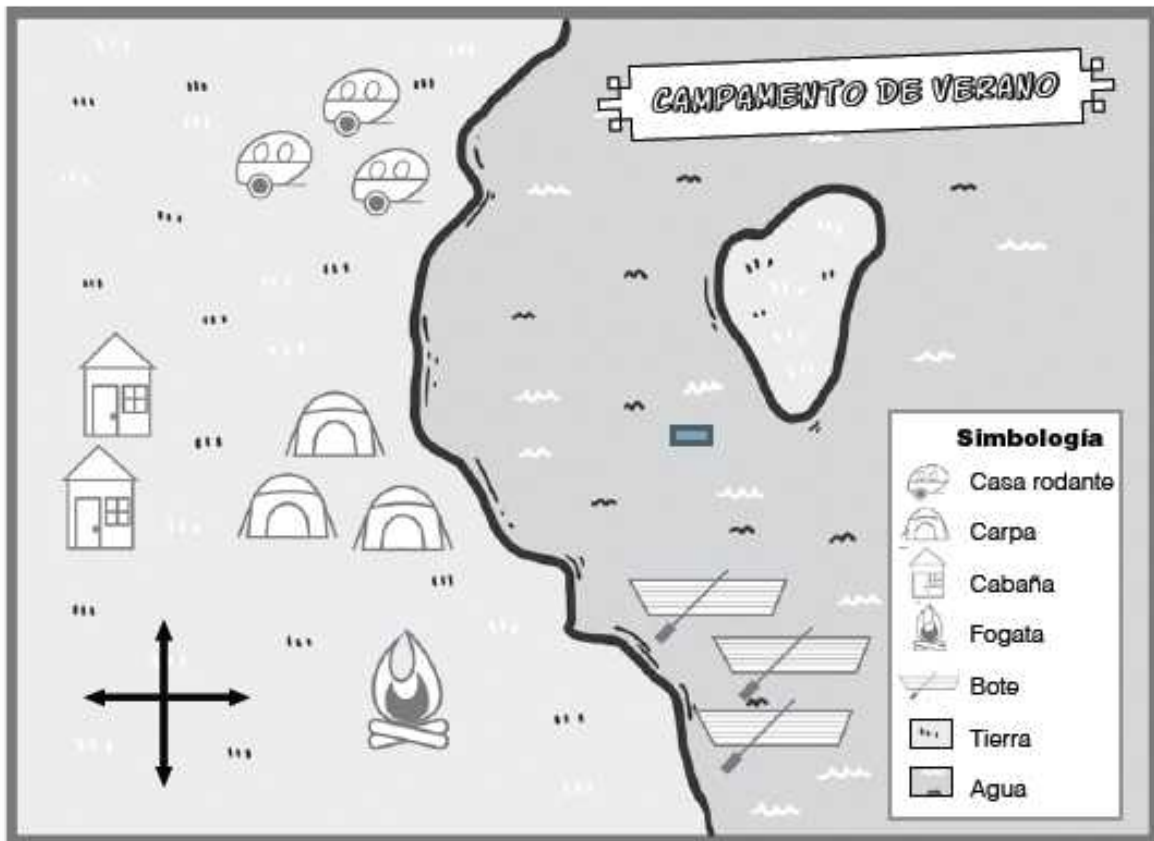
- a. Dos cuadros hacia el norte.
- b. Tres cuadros hacia el este.
- c. Tres cuadros hacia el norte.
- d. Cinco cuadros hacia el este.
- e. Cuatro cuadros hacia el sur.
- f. Dos cuadros hacia el oeste.



★

3. Dibuja una estrella roja en el cuadro donde llegaste y luego compara con tus compañeros si todos llegaron al mismo cuadro.

4. Observa el plano y realiza las actividades que aparecen a continuación.



1. Escribe norte, sur, este y oeste en la rosa de los vientos.

2. Pinta la tierra café y el agua, azul.

3. Los botes están al _____ de la fogata.

4. Las casas rodantes están al _____ de las carpas.

5. Las cabañas están al _____ de las carpas.

6. La fogata está al _____ de las casas rodantes.

7. La isla está al _____ del campamento.



Saint Louis School
Coordinación Académica
Educación Básica